



Aus welchem Material bestehen die Tore am Ende des Durchganges?

Holz --> A = 100  
Metall --> A = 200



Links steht ein markantes Gebäude!

B = einstellige QS der Jahreszahl über dem Haupteingang  
C = Anzahl der rechteckigen Fensterscheiben über Haupteingang





Welche Farbe hat der Mülleimer in der Nähe der Schranke?

grau --> D = 150  
grün --> D = 200



E =  
QS der Ziffern der  
Telefonnummer der  
Leitstelle des  
Bürgerbusses



Wer fand hier „Stille,  
Weitblick und Besinnung“?  
  
F = Summe der  
Buchstabenwerte  
(A = 1, B = 2 ...)




Wieviele Bänke und Tische  
stehen hier auf der linken Seite?  
  
G =





H = Summe der Buchstabenwerte des Restaurantnamens (A = 1, B = 2 ...) ü=u



Ihr passiert eine "Gasdruckregelanlage"

I = QS der Ziffern der Telefonnummer des Entstördienstes



**FINAL!**

<b>A</b>	<b>B</b>	<b>C</b>	<b>D</b>	<b>E</b>	<b>F</b>	<b>G</b>	<b>H</b>	<b>I</b>


$$\text{„X“} = A + B + C + D + E + F + G + H + I$$

$$\text{„X“} = \underline{\hspace{2cm}}$$


**Final bei:**

$$32 \text{ U } (498 * \text{„X“}) + D + F + H - 19$$

$$(7354 * \text{„X“}) - (10 * C + 8)$$



**Stempel des owners**



**Stempel des Finders**